



SINDHI HIGH SCHOOL, K.K. ROAD, BENGALURU - 01

Periodic Test-3 - 2023-24

SUBJECT: ENGLISH



Name: \_\_\_\_\_

Date: 08/02/24

Class: III A/B/C

Max. Marks: 30

Roll No: \_\_\_\_\_

Reading time: 8:00 - 8:10 a.m.

No. of sides:6

Writing time: 8:10 - 9:10 a.m.

General Instructions:

- This paper contains three sections.
- Section A - Reading - 5 marks
- Section B - Writing and Grammar - 10 marks
- Section C - Literature- 15 marks
- ALL SECTIONS ARE COMPULSORY

SECTION A (Reading)

(5 M)

I Read the following passage and answer the given questions.

- 1) Bears are found in Europe, Asia, Africa and America. They have short tails and thick legs. A polar bear's skin is actually black. Beneath all the thick fur, polar bears have jet black skin.
- 2) Bears are not really carnivores. They eat almost anything except for the polar bear. The polar bear eats fish and seals due to its surroundings. However, when kept in the zoo, they seem to enjoy meat, vegetables, milk, rice and porridge.
- 3) Bears are not as dangerous as people imagine them to be. Like most animals they will do their best to stay away from human beings. They have a special sense which is eyesight to see things.

1) **Answer the following:**

(1x4=4M)

1) Where are bears found?

---

---

2) What do bears eat when they are kept in the zoo?

---

---

3) What does a bear stay away from like most animals?

---

---

4) What special sense do bears have?

---

---

5) Find the antonyms (opposite) for the given word from the passage ( 1/2x 2= 1m)

a) safe X \_\_\_\_\_ ( para 3)

b) thin X \_\_\_\_\_ (para 1)

**SECTION B – Writing and Grammar (10 M)**

**II Complete the paragraph on Lotus using the given notes (5M)**

- Beautiful flower with pleasant fragrance.
- White or light pink in colour
- Boat shaped petals
- National flower of india
- In temples and in marriages

Lotus is considered as a \_\_\_\_\_

It is \_\_\_\_\_ It has many \_\_\_\_\_

\_\_\_\_\_ Lotus is regarded as the \_\_\_\_\_

\_\_\_\_\_ It is used \_\_\_\_\_

**III Use the prepositions from the box to fill in the blanks (1/2 x4=2M)**

with near to at

One day we decided to go \_\_\_\_\_ the park \_\_\_\_\_ my dog. He would be upset if we left him \_\_\_\_\_ home. He was excited to go out. There was a market \_\_\_\_\_ the park.

**IV Use the correct degrees of comparison to fill in the blanks: (1/2 x6=3M)**

Ram is a \_\_\_\_\_ ( funny) boy. He is my friend. He is the \_\_\_\_\_ (tall) in his family. He has \_\_\_\_\_ (long) legs. His brother, Raj is a state champion. His brother can run \_\_\_\_\_ (fast) than him. Raj is \_\_\_\_\_ ( famous) than Ram. I always wish the \_\_\_\_\_ (good) for my

friend, Ram.

**SECTION C – LITERATURE (15 marks)**

**V) Read the following extract and answer the questions that follow: (1x4=4M)**

1. 'Will they be smart enough to understand? And they were'.

a) From which lesson has the above line been taken?

---

---

b) Who is 'they' in this line?

---

c) What did Eugenie think of doing?

---

---

d) Was she successful at her plan?

---

**VI) Answer the following questions:**

1) Where does the speaker spot the kite? What does he compare kites to? (2M)

---

---

---

2) Describe the two-storeyed building in which the narrator lived with his adopted family in the lesson, 'The Storm at Night.' (2M)

---

---

---

3) Why did Eugenie join the aquarium society? What did she love the most? (2M)

---

---

---

**VII) Answer in detail:**

**(5M)**

1. a) In the lesson 'The Storm at Night,' what were the difficulties which the narrator and his adopted family faced during the storm?
- b) What did they do once the storm had passed?

---

---

---

---

---

---

---


---



SINDHI HIGH SCHOOL, K K ROAD, BENGALURU

PERIODIC TEST – 3 2023-2024

SUBJECT : Language Kannada



Class: 3, Sec: \_\_\_\_\_

No of sides – 4

Max Marks: 30

Date: 7 - 2 - 2024

Reading Time: 8:00 to 8:10 AM

Name: \_\_\_\_\_

Writing Time: 8:10 to 9:10 AM

Roll No: \_\_\_\_\_

1 ಕೆಳಗಿನ ಗದ್ಯಭಾಗವನ್ನು ಓದಿ, ಕೊಟ್ಟಿರುವ ಪ್ರಶ್ನೆಗಳಿಗೆ ಸರಿಯಾದ ಉತ್ತರವನ್ನು ಆರಿಸಿ ಬರೆಯಿರಿ. 1X5=5

ಹಕ್ಕಿಯು ಆಹಾರ ಬೇಕಾದಾಗ ಮಾತ್ರ ನೆಲದ ಮೇಲೆ ಇಳಿದು ಬರುತ್ತದೆ. ಇದರ ಆಹಾರ ಕೀಟ, ಧಾನ್ಯ ಮತ್ತು ಹಣ್ಣುಗಳಾಗಿವೆ. ಇದು ತನ್ನ ಎರಡು ರೆಕ್ಕೆಗಳ ಸಹಾಯದಿಂದ ಆಕಾಶದಲ್ಲಿ ಹಾರುತ್ತದೆ. ಇದರ ವಾಸ ಮರದ ಮೇಲೆ. ತನ್ನ ಮೊಟ್ಟೆ, ಮರಿಗಳನ್ನು ಕಾಪಾಡಲು ಮನೆ ಬೇಕು. ಕಡ್ಡಿ, ನಾರು, ಹುಲ್ಲು, ಹತ್ತಿ ಇವುಗಳನ್ನು ತಂದು ಮರದ ಮೇಲೆ ಮನೆ ಕಟ್ಟುತ್ತದೆ. ಇದು ವಾಸಿಸುವ ಮನೆಯೇ ಹಕ್ಕಿಯ ಗೂಡು.

ಪ್ರಶ್ನೆಗಳು:

೧. ಹಕ್ಕಿಯು \_\_\_\_\_ ಹಾರುವುದು.

ಅ) ಭೂಮಿಯಲ್ಲಿ ಆ) ಆಕಾಶದಲ್ಲಿ ಇ) ಮರಳಿನಲ್ಲಿ ಈ) ಕೆರೆಯಲ್ಲಿ

೨. ಹಕ್ಕಿಗೆ \_\_\_\_\_ ಬೇಕಾದಾಗ ನೆಲದ ಮೇಲೆ ಇಳಿದು ಬರುತ್ತದೆ.

ಅ) ಆಹಾರ ಆ) ಗಾಳಿ ಇ) ಮನೆ ಈ) ಗೆಲೆಯರು

೩. ಹಕ್ಕಿಯು ವಾಸಿಸುವ ಮನೆಯನ್ನು \_\_\_\_\_ ಎನ್ನುತ್ತಾರೆ.

ಅ) ಬಿಲ ಆ) ಗುಹೆ ಇ) ಗೂಡು ಈ) ಕೊಟ್ಟಿಗೆ

೪. ಹಕ್ಕಿಯು ಮನೆ ಕಟ್ಟಲು ಕಡ್ಡಿ, ನಾರು, ಹುಲ್ಲು \_\_\_\_\_ ಇವುಗಳನ್ನು ಬಳಸುತ್ತದೆ.

ಅ) ಕಲ್ಲು      ಆ) ನೀರು      ಇ) ಕಬ್ಬಿಣ      ಈ) ಹತ್ತಿ

೫. ಹಕ್ಕಿಯು ತನ್ನ ಮೊಟ್ಟೆ, \_\_\_\_\_ ಕಾಪಾಡುತ್ತದೆ.

ಅ) ಮರಿಗಳನ್ನು      ಆ) ಬಳಗವನ್ನು      ಇ) ಪ್ರಾಣಿಗಳನ್ನು      ಈ) ಗಿಡಗಳನ್ನು

II ಕೆಳಗಿನ ಪ್ರಶ್ನೆಗಳಿಗೆ ನಾಲ್ಕು ಉತ್ತರಗಳನ್ನು ಕೊಡಲಾಗಿದೆ. ಅವುಗಳಲ್ಲಿ ಸರಿಯಾದ ಉತ್ತರವನ್ನು ಆರಿಸಿ ಬರೆಯಿರಿ. 1X10=10

೧. 'ಜೋಪಾನ' ಪದದ ಸಮಾನಾರ್ಥಕ ಪದ \_\_\_\_\_

ಅ) ಎಚ್ಚರಿಕೆ      ಆ) ಭಯ      ಇ) ಬಯಸು      ಈ) ನಿಧಾನವಾಗಿ

೨. 'ಸತ್ಯ' ಪದದ ವಿರುದ್ಧ ಪದ \_\_\_\_\_

ಅ) ಅಸತ್ಯ      ಆ) ಮೋಸ      ಇ) ನಿಜ      ಈ) ಆಸತ್ಯ

೩. 'ಉಡುಪು' ಪದದ ಬಹುವಚನ ರೂಪ \_\_\_\_\_

ಅ) ಉಡುಪುಗಳು      ಆ) ಉಡುಪುಗಳ      ಇ) ಉಡುಪುಗಳು      ಈ) ಉಡುಪನ

೪. 'ಅತ್ತೆ' ಪದವನ್ನು ಲಿಂಗ ಬದಲಿಸಿ ಬರೆದಾಗ ಬರುವ ರೂಪ \_\_\_\_\_

ಅ) ತಮ್ಮ      ಆ) ಮಾವ      ಇ) ಅಣ್ಣ      ಈ) ಚಿಕ್ಕಮ್ಮ

೫. ಸಿರುಬಿನೀ : ಬಿಸಿನೀರು :: ಹಿನ್ನುಸಿಜೇ : \_\_\_\_\_

ಅ) ಜೇನುಸಿಹಿ      ಆ) ಹಿಸಿಜೇನು      ಇ) ಸಿಹಿಜೇನು      ಈ) ಹಿಜೇನು

೬. 'ಮಳೆ' ಈ ಪದದ ಜೋಡಿ ಪದ \_\_\_\_\_

ಅ) ಬೆಳೆ      ಆ) ಗುಡುಗು      ಇ) ಮಿಂಚು      ಈ) ಮೋಡ

೭. ಕಳೆ : ಕಾಂತಿ - ಕಸ :: ಕಾಡು : \_\_\_\_\_

ಅ) ವನ - ಪೀಡಿಸು      ಆ) ದ್ರವ್ಯ - ಪಚನವಾಗು      ಇ) ಜಿಗಿ - ಗುಂಡಿ      ಈ) ಕೋಪ - ಮುಷಿ

೮. ಕುಣಿಯಿತು : ಕುಣಿಯಲಿಲ್ಲ :: ಮಿರುಗಿತು : \_\_\_\_\_

ಅ) ಮಿರುಗಲಿಲ್ಲ      ಆ) ಮಿರುಗಿ ಹೋಯಿತು      ಇ) ಮಿಣುಗಿತು      ಈ) ಮಿಣುಗಲಿಲ್ಲ

೯. ಕೊಡು : ನೀಡು :: ಕೋಡು : \_\_\_\_\_

ಅ) ಹಣೆ ಆ) ನಯನ ಇ) ಮುಖ ಈ) ಕೊಂಬು

೧೦. ಗೆಲೆಯರೆ , ತುಂಬಿದ \_\_\_\_\_ ತುಳುಕುವುದಿಲ್ಲ.

ಅ) ಪಾತ್ರ ಆ) ಕೊಡ ಇ) ನೀರು ಈ) ಜಲ

III ಈ ಪ್ರಶ್ನೆಗಳಿಗೆ ಒಂದು ವಾಕ್ಯದಲ್ಲಿ ಉತ್ತರಿಸಿ .

1X4=4

೧. ಎಲ್ಲವೂ ಎಲ್ಲಿ ಸಭೆ ಸೇರಿದವು ?

೨. ಅಮ್ಮ ಯಾವ ದೋಸೆ ಹುಯ್ಯುವಳು ?

೩. ಪುಟ್ಟ ಮಕ್ಕಳು ಎಲ್ಲಿ ಆಡುತ್ತಿದ್ದವು ?

೪. ದೋಸೆ ಚುಂಯ್ ಚುಂಯ್ ಎಂದು ಯಾವುದರ ಮೇಲೆ ಸದ್ದು ಮಾಡುತ್ತದೆ?

IV ಈ ಮಾತನ್ನು ಯಾರು ಯಾರಿಗೆ ಹೇಳಿದರು?

2X2=4

೧. " ಇದಕ್ಕೆ ಕಾರಣ ಯಾರು ಗೊತ್ತೆ?"



೨. "ಜೀವಿಗಳ ಉಸಿರಾಟ ಅರಕ್ಷಣ ನಿಂತರೆ ಏನಾಗುತ್ತದೆ?"

V ಈ ಕೆಳಗಿನ ಪ್ರಶ್ನೆಗಳಿಗೆ ಎರಡು ಅಥವಾ ಮೂರು ವಾಕ್ಯಗಳಲ್ಲಿ ಉತ್ತರಿಸಿ.

2X2=4

೧. ಕರ್ನಾಟಕ ಹೆಂಚಿನಲ್ಲಿ ಎಂತಹ ದೋಸೆ ಸಿದ್ಧವಾಗುತ್ತದೆ? ಹಾಗೂ ದೋಸೆ ಕರಗದೆ ಕಾಡುವುದು ಯಾವಾಗ?

೨.ವಿದ್ಯೆ ಎಲ್ಲರಿಗೂ ನುಡಿದ ಹಿತವಚನವೇನು?

VI ಕೆಳಗೆ ಕೊಟ್ಟಿರುವ ಯಾವುದಾದರೂ ಒಂದು ವಿಷಯವನ್ನು ಕುರಿತು ಮೂರು ವಾಕ್ಯಗಳಲ್ಲಿ ಬರೆಯಿರಿ. ೧. ಮನೆ ಅಥವಾ ೨. ನೀರು 3X1=3

\*\*\*\*\*



SINDHI HIGH SCHOOL, K.K.ROAD BENGALURU -01

PERIODIC TEST- 3, 2023-2024

SUBJECT: HINDI(Additional Lang)



Class: III

Marks: 30

Name: \_\_\_\_\_

No. of printed sides: 3

Time: 1 hour

Roll No. \_\_\_\_\_

Date: 12/ 2 /2024

Reading Time: 8:00 to 8:10am

Writing Time: 8:10 to 9:10am

खंड : क

[I] निम्न लिखित गद्यांश को पढ़कर सही उत्तर चुनिए :

1x5=5

निम्न लिखित गद्यांश को पढ़कर सही उत्तर चुनिए :

जंगल में एक खरगोश रहता था। उसके चार मित्र थे - गाय, हिरन, घोडा और बकरी। पाँच दोस्त मिल-जुलकर हँसी-खुशी से समय बिता रहे थे। एक दिन कुछ कुत्ते खरगोश के पीछे पड़ गए। खरगोश बहुत घबराया। वह अपने मित्रों में से सबसे पहले घोड़े के पास सहायता माँगने गया। वह घबराकर घोड़े से बोला मित्र मुझे किसी तरह इस कुत्ते से बचाओ। ये तो मुझे मार डालेंगे।

1. जंगल में एक कौन रहता था?

(i) खरगोश (ii) हाथी (iii) शेर (iv) मोर

2. खरगोश के पीछे कौन पड़ गया था ?

(i) बिल्ली (ii) बच्चे (iii) कुत्ते (iv) औरत

3. खरगोश के कितने मित्र थे?

(i) एक (ii) दो (iii) तीन (iv) चार

4. सबसे पहले खरगोश किस के पास सहायता माँगने गया?

(i) गाय, (ii) हिरन, (iii) घोडा (iv) बकरी

5. नीचे दिए गए शब्द का विलोम गद्यांश में से ढूँढ़कर लिखिए -

आगे X \_\_\_\_\_

खंड : ख

[II] पर्याय वाची शब्द लिखिए :

$\frac{1}{2} \times 4 = 2$

1. पक्षी : \_\_\_\_\_

2. हवा : \_\_\_\_\_

[III] विलोम शब्द लिखिए :

$\frac{1}{2} \times 4 = 2$

1. शैतानी x \_\_\_\_\_ 2. ताज़ा x \_\_\_\_\_

3. थोड़ा x \_\_\_\_\_ 4. समय x \_\_\_\_\_

[IV] वचन बदलकर लिखिए :

$\frac{1}{2} \times 4 = 2$

1. कहानी - \_\_\_\_\_ 2. किरण - \_\_\_\_\_

3. बच्चा - \_\_\_\_\_ 4. बस्ता - \_\_\_\_\_

[V] बनाकर लिखिए :

$1 \times 2 = 2$

1. सुबह - \_\_\_\_\_

2. चिड़िया - \_\_\_\_\_

[VI] नीचे लिखे शब्दों में से संज्ञा और विशेषण शब्द अलग करके लिखिए।

शब्द	संज्ञा	विशेषण	$\frac{1}{2} \times 8 = 4$
1. थोड़ा जल	_____	_____	
2. थोड़ी हरियाली	_____	_____	
3. बहुत मिट्टी	_____	_____	
4. कुछ शैतानी	_____	_____	

खंड : ग

[VII] सही या गलत लिखिए :

$\frac{1}{2} \times 4 = 2$

1. सुबह की हवा ताजी होती है।

2. चारों सहेलियों ने मान लिया कि सब का होना ज़रूरी है।

3. कवि ने चिड़िया से शहर से चीज़ें मँगवाई हैं।

4. कवि ने गाँव को टी.वी. में देखा है।

[VIII] नीचे दिए गए प्रश्नों के उत्तर लिखिए :

1x6=6

1. दिन की शुरुआत किसके द्वारा होती है ?

2. बच्चे किस समय खेलने जाते हैं ?

3. किसके आने पर अँधेरा छा जाता है ?

4. खेतों से चिड़िया को क्या लाने के लिए कहा जा रहा है ?

5. कवि ने चिड़िया से आँखों में क्या भरकर लाने के लिए कहा है ?

6. गाँव के बच्चों की बोली कैसी बताई गई है ?

[IX] दिए गए शब्दों की सहायता से पत्र पूरा कीजिए। यह पत्र सुभाष ने अपने मित्र रोहित को अपने गाँव के बारे में बताते हुए लिखा है।

1x5=5

[ तालाब, गाँव, नहाने, खेतों, सुंदर ]

परीक्षा भवन,

नई दिल्ली

9 फरवरी, 2024

प्रिय रोहित,

सप्रेम नमस्कार।

पिछले दिनों मैं अपने \_\_\_\_\_ गया था। मेरे गाँव का नाम सीतापुर है। मेरा गाँव बहुत \_\_\_\_\_

और हरा-भरा दिखता है। यहाँ एक बहुत बड़ा \_\_\_\_\_ है। हम तालाब में \_\_\_\_\_

जाते थे। मैं पिताजी के साथ \_\_\_\_\_ में भी घूमने गया। सचमुच बहुत मज़ा आया।

अपने माता-पिता को मेरा प्रणाम कहना।

तुम्हारा मित्र,

सुभाष



Sindhi High School, K K Road, Bengaluru

Periodic Test 3 - 2023-24

Subject: Mathematics



Name: \_\_\_\_\_

Date: 06/02/2024

Class: 3 A / B / C

Marks: 30

Roll No: \_\_\_\_\_

Reading Time: 8:00 – 8:10

No of Printed Sides: 05

Writing Time: 8:10 – 9:10

I. Fill in the blanks: -

(1 X 10 = 10)

1. When a number is written below the line it is called the

\_\_\_\_\_.

2. When a number is written above the line it is called the

\_\_\_\_\_.

3. 100 cm = \_\_\_\_\_ m.

4. 1L = \_\_\_\_\_ ml.

5. 7000 g = \_\_\_\_\_ kg.

6. 3 km = \_\_\_\_\_ m.

7. Half a circle of the minute hand means \_\_\_\_\_ minutes.

8. A leap year has \_\_\_\_\_ days.

9. \_\_\_\_\_ is a collective display of all dates, days,

weeks and months of a year.

10. A \_\_\_\_\_ shows various events in order of their

taking place.

II. Identify the denominator and numerator: -

(1/2 X 4 = 2)

a)  $\frac{0}{51}$  N = \_\_\_\_\_ D = \_\_\_\_\_

b)  $\frac{2}{51}$  N = \_\_\_\_\_ D = \_\_\_\_\_

III. Study the calendar and answer:-

(1/2 X 6 = 3)

## February 2000

Sunday	Monday	Tuesday	Wednesday	Thursday	Friday	Saturday
		1	2	3	4	5
6	7	8	9	10	11	12
13	14	15	16	17	18	19
20	21	22	23	24	25	26
27	28	29				

a) Write the circled date?

Ans:- \_\_\_\_\_

b) How many days are there?

Ans:- \_\_\_\_\_

c) Is this a leap year?

Ans:- \_\_\_\_\_

d) How many Sundays are there?

Ans:- \_\_\_\_\_

e) How many Friday's are there in the month?

Ans:- \_\_\_\_\_

f) Which month of the year is it?

Ans:- \_\_\_\_\_

IV. Add: -

(1/2 X 3 = 1.5)

a)

	m	cm
	75	13
+	56	37

b)

	kg	g
	20	160
+	70	800

c)

	l	ml
	5	200
+	9	750

V. Subtract: -

(1/2 X 3 = 1.5)

a)

	m	cm
	67	13
-	30	10

b)

	kg	g
	90	760
-	10	300

c)

	l	ml
	45	250
-	22	140

VI. Read and write the time by count of 5 minutes: - (1/2 X 4 = 2)

a)



---

---

c)



---

---

b)



---

---

d)



---

---



VII. Word problems: -

(10)

a) Ayesha travelled from Bangalore to Hyderabad. The distance between Bangalore and Chennai is 500 km. The distance between Chennai and Hyderabad is 300 km. find the total distance from Bangalore to Hyderabad?

\_\_\_\_\_ =  
\_\_\_\_\_ =  
\_\_\_\_\_ =

b) A man bought 10kg 500 g of grapes and 13kg 300 g of mangoes. Find the difference and sum of both mango and grapes?

Sum

\_\_\_\_\_ =  
\_\_\_\_\_ =  
\_\_\_\_\_ =

Difference

\_\_\_\_\_ =  
\_\_\_\_\_ =  
\_\_\_\_\_ =

c) Shiv bought a dozen of apples. 5 of them were rotten and rest of the apples were fresh. What is the fraction of rotten apples and fresh apples?

\_\_\_\_\_ =  
\_\_\_\_\_ =  
\_\_\_\_\_ =

\*\*\*\*\*



SINDHI HIGH SCHOOL, K K ROAD, BENGALURU.

PERIODIC TEST 3 - 2023-24

SUBJECT: EVS



Name: \_\_\_\_\_

Date: 9/02/2024

Class: 3 A / B / C

Marks: 30

Roll No: \_\_\_\_\_

Reading Time: 8:00 – 8:10

No of Printed Sides: 04

Writing Time: 8:10 – 9:10

I. Choose the correct answer:

( $\frac{1}{2} \times 4 = 2$ )

1. A house gives a feeling of \_\_\_\_\_.

a) jealousy      b) tension      c) security

2. \_\_\_\_\_ breeds in stagnant water.

a) Housefly      b) Mosquito      c) Cockroach

3. The sun sets in the \_\_\_\_\_.

a) east      b) west      c) north

4. The windows and doors should have proper \_\_\_\_\_ to keep away flies and mosquitoes.

a) wire-netting      b) ventilation      c) drainage system

II. Match the following:

( $\frac{1}{2} \times 4 = 2$ )

1. Human beings      a) stable ( )

2. Horse      b) house ( )

3. Hen      c) kennel ( )

4. Dog      d) coop ( )

III. Name the following:

(1x4=4)

1. The house on wheels. - \_\_\_\_\_
2. A book of maps. - \_\_\_\_\_
3. Disease caused by eating uncovered food. - \_\_\_\_\_
4. Jhulelal's cousin. - \_\_\_\_\_

IV. Write True or False:

( $\frac{1}{2} \times 4 = 2$ )

1. Uderolal bestowed Pagada seven symbolic things. - \_\_\_\_\_
2. Dal lake is situated in Srinagar. - \_\_\_\_\_
3. The needle in compass always points towards south. - \_\_\_\_\_
4. Dog and cat eat grass and hay. - \_\_\_\_\_

V. Complete the analogy:

(1x4=4)

1. Rough drawing of a place : Sketch :: Detailed drawing of a small area :  
\_\_\_\_\_
2. Pet animal : dog :: farm animal : \_\_\_\_\_
3. Kuchcha house : hut :: Pucca house : \_\_\_\_\_
4. Mouse trap : to catch a mouse :: Spray pesticide :  
\_\_\_\_\_

VI. Answer the following:

1. Explain the qualities of an ideal house.

(2)

---

---

---

---

**2. When and how do we decorate our houses? (2)**

---

---

---

**3. What are pests? Explain 2 ways how they harm human beings. (3)**

---

---

---

---

**VII. Ram gives proper food to his dog Bruno and takes care of him.**

**a) Is Bruno a pet or domestic animal? (1)**

---

---

**b) Which value is displayed by Ram? (1)**




---

---

**VIII. Draw and colour a picture of an igloo. Write 2 lines about it. (3)**

IX. Answer as directed:-

(10-8-8)



1. Draw and colour a house towards North.
2. Identify the pictures in the East. \_\_\_\_\_
3. Name the pictures in the West direction. \_\_\_\_\_
4. Describe in a line about the pictures given in South direction.

A. \_\_\_\_\_